


lundi

Dessine 10 carrés. Colorie le premier en bleu et le dernier en violet.




mardi

Kim pense à un nombre. Son nombre est plus grand que 35 et plus petit que 44. C'est un nombre pair. Alors, quels sont les choix de nombres?


mercredi

Il y a 14 vers dans le gazon. Puis 3 autres vers vont les rejoindre. Combien y a-t-il de vers maintenant?



jeudi

Utilise les trois nombres. Écris 2 phrases d'addition et 2 phrases de soustraction.



vendredi

Nathalie a fait 12 petits gâteaux. Maintenant il y a seulement 9 petits gâteaux. Combien de petits gâteaux est-ce qu'elle a mangé?

